

## BAB 3 EKONOMI INTERNASIONAL

### A. Perdagangan Internasional

Perdagangan internasional adalah bentuk pertukaran barang dan jasa yang dilakukan masyarakat dunia atau antar negara. Pertukaran ini menunjukkan bahwa interaksi dalam perdagangan sangat luas seiring dengan pesatnya kebutuhan akan barang dan jasa.

#### 1. Faktor dan Manfaat Pendorong Perdagangan Internasional

Faktor pendorong terjadinya perdagangan internasional adalah :

- a. Perbedaan sumber daya alam
- b. Penghematan biaya produksi (efisiensi)
- c. Selera akan barang/jasa tertentu
- d. Perbedaan tingkat teknologi

Manfaat adanya perdagangan internasional adalah :

- a. Sebagai sumber penerimaan devisa
- b. Memperluas lapangan kerja
- c. Stabilisasi harga
- d. Peningkatan kualitas konsumsi
- e. Percepatan alih teknologi

#### 2. Teori Perdagangan Internasional

- a. Teori Keunggulan Mutlak (*Absolute Advantage*) dari Adam Smith

Teori ini menjelaskan bahwa suatu negara bisa melakukan perdagangan internasional jika mampu memproduksi barang dengan biaya yang lebih murah dibandingkan negara lain. Jika suatu negara tidak mempunyai produk dengan biaya lebih murah maka tidak bisa dalam perdagangan internasional.

Berikut tabel jumlah produksi dalam satu hari :

Negara	Produk	
	Mobil	Motor
Jepang	100 unit	400 unit
Amerika	80 unit	160 unit

Analisis *Absolute Advantage* :

Dilihat dari produktifitas sumber daya terlihat Jepang mampu menghasilkan kedua jenis produk dalam jumlah yang lebih banyak. Sehingga penggunaan sumber daya di Jepang lebih efisien/unggul untuk kedua jenis barang dibandingkan dengan di Amerika.

Kesimpulannya Jepang memiliki keunggulan mutlak untuk produk mobil dan motor dibandingkan dengan Amerika.

- b. Teori Keunggulan Komparatif (*Comparative Advantage*) dari David Richardo

Teori ini menjelaskan bahwa dua negara tetap bisa melakukan perdagangan internasional walaupun salah satu negara tidak memiliki keunggulan mutlak, sebab secara komparatif suatu negara pasti memiliki barang yang paling efisien dan menguntungkan.

Berikut tabel jumlah produksi dalam satu hari :

Negara	Produk		Dasar Tukar Dalam Negeri	
	Mobil	Motor		
Jepang	100 unit	400 unit	1 mobil = 4 motor	1 motor = 0,25 mobil
Amerika	80 unit	160 unit	1 mobil = 2 motor	1 motor = 0,5 mobil

Analisis *Comparative Advantage* :

##### Mobil

Jepang, biaya membuat 1 mobil = membuat 4 motor  
 Amerika, biaya membuat 1 mobil = membuat 2 motor  
 Kesimpulan :  
 Amerika secara komparatif unggul pada produk mobil sebesar 2 motor (4-2) lebih murah

##### Motor

Jepang, biaya membuat 1 motor = membuat 0,25 mobil  
 Amerika, biaya membuat 1 motor = membuat 0,5 mobil  
 Kesimpulan :  
 Jepang secara komparatif unggul pada produk motor sebesar 0,25 mobil (5 - 0,25) lebih murah

#### 3. Proteksi

Proteksi dalam perdagangan internasional menunjukkan kebijakan suatu negara dalam perdagangan internasional dengan mempertimbangkan aspek perlindungan atas kemajuan perekonomian nasional. Melalui proteksi, negara yang bersangkutan bisa mengendalikan arus barang dan jasa dari dan ke luar negeri.

Alasan adanya proteksi dalam perdagangan internasional adalah :

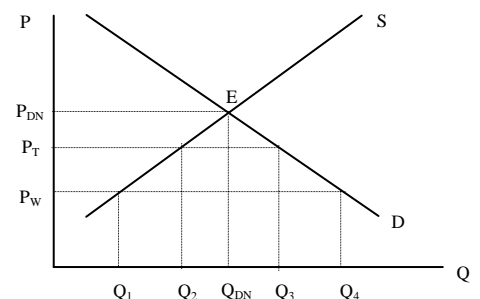
- a. Melindungi industri dalam negeri yang masih baru
- b. Melindungi tenaga kerja dalam negeri
- c. Mencegah politik dumping dari produsen luar negeri
- d. Mencegah over specialitation
- e. Mengurangi defisit neraca pembayaran
- f. Melindungi industri-industri strategis dalam negeri

Jenis-jenis proteksi

- a. Tarif, yaitu kebijakan pemerintah dengan mengenakan pajak dalam prosentase tertentu pada harga barang impor.

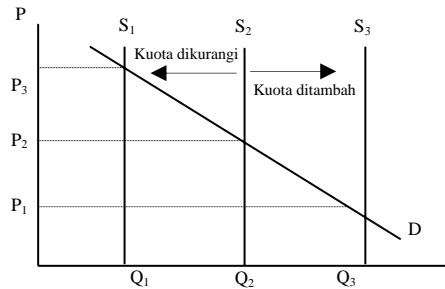
Sebelum ada tarif harga barang di dalam negeri sebesar  $P_{DN}$  dan jumlah  $Q_{DN}$ . Harga ini lebih mahal dibandingkan harga pasar dunia sebesar  $P_W$ .

- Pada tingkat  $P_W$  produsen lokal hanya mampu memproduksi sebesar  $Q_1$  menghadapi permintaan sebesar  $Q_4$ , kekurangannya akan diisi oleh barang impor sebesar  $Q_4 - Q_1$ .
- Jika tarif barang impor dikenakan maka harga akan naik menjadi  $P_T$ , produsen lokal akan memproduksi sebesar  $Q_2$  menghadapi permintaan sebesar  $Q_3$ , kekurangannya akan diisi dengan impor sebesar  $Q_3 - Q_2$ .



b. Kuota, yaitu kebijakan yang dilakukan pemerintah dengan cara membatasi masuknya barang impor.

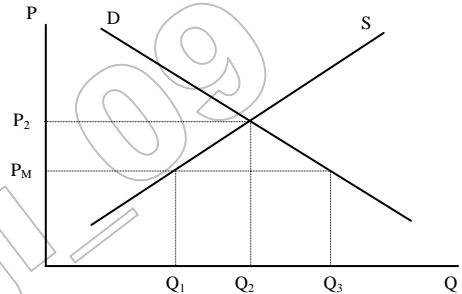
- Ketika kuota barang impor sebesar  $Q_2$  harga yang berlaku  $P_2$
- Ketika kuota barang impor dikurangi menjadi  $Q_1$  harga naik menjadi  $P_3$
- Ketika kuota barang impor ditambah menjadi  $Q_3$  harga turun  $P_1$



c. Larangan impor, kebijakan pemerintah yang melarang masuknya barang impor atas pertimbangan kepentingan nasional. Tujuan kebijakan ini adalah :

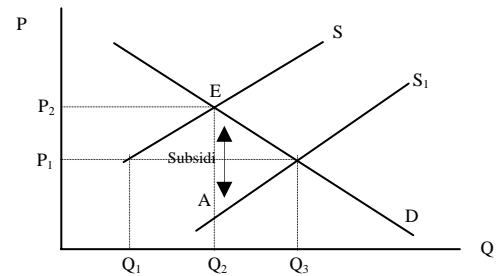
- 1) Mengurangi pesaing
- 2) Meningkatkan harga produk dalam negeri
- 3) Meningkatkan penjualan produk dalam negeri
- 4) Mengurangi kemungkinan larinya devisa ke luar negeri

- Ketika impor dibuka pada harga  $P_M$  produsen lokal mampu memproduksi sebesar  $Q_1$  menghadapi permintaan sebesar  $Q_3$ , kekurangannya diisi dengan impor sebesar  $Q_3 - Q_1$ .
- Ketika ada larangan impor maka harga naik menjadi  $P_2$  dengan permintaan dalam negeri sebesar  $Q_2$ .



d. Subsidi, yaitu kebijakan pemerintah melalui bantuan kepada produsen dalam negeri agar dapat menekan biaya produksi sehingga bisa bersaing dengan produk asing. Subsidi ini bisa berupa tambahan dana modal, subsidi bahan baku dan lain-lain. Dampak kebijakan subsidi dalam perdagangan internasional dapat dilihat dalam grafik berikut.

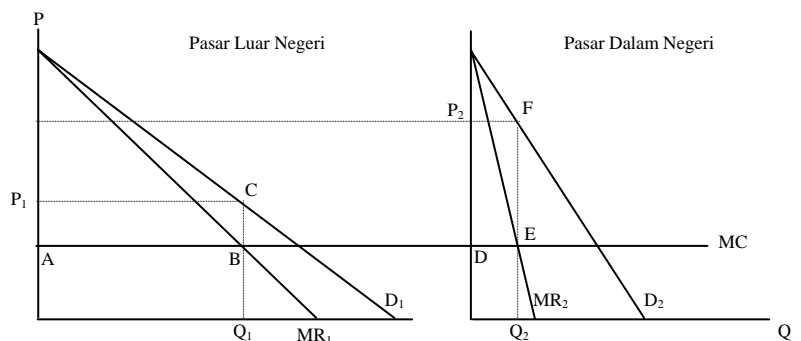
- Tanpa subsidi harga berada pada tingkat  $P_2$  dengan jumlah produksi dan permintaan sebesar  $Q_2$ , padahal harga pasar dunia lebih murah yaitu sebesar  $P_1$ , pada tingkat harga ini produsen lokal hanya mampu memproduksi sebesar  $Q_1$  menghadapi permintaan sebesar  $Q_3$ , kekurangannya diisi dengan impor sebesar  $Q_3 - Q_1$
- Ketika ada subsidi sebesar  $EA$  sehingga penawaran bergeser ke kanan dari  $S - S_1$  atau bersedia memproduksi sebesar  $Q_3$  sehingga harga turun menjadi  $P_1$ . kondisi ini tidak memerlukan impor lagi



e. Dumping, yaitu kebijakan suatu negara dengan cara menjual barang ke luar negeri lebih murah dibandingkan di dalam negeri. Tujuan kebijakan ini diantaranya adalah :

- 1) Penguasaan pasar luar negeri
- 2) Mencapai target tertentu
- 3) Menghabiskan sisa barang.

- Di luar negeri harga ditetapkan  $P_1$  dengan keuntungan sebesar daerah  $ABCP_1$
- Di dalam negeri harga ditetapkan  $P_2$  (lebih mahal) dengan keuntungan sebesar daerah  $DEFP_2$



f. Larangan ekspor, yaitu kebijakan pemerintah dengan melarang ekspor barang tertentu ke luar negeri. Alasan kebijakan ini diantaranya bisa karena barang tersebut tergolong langka dan strategis bagi kepentingan nasional.

g. Premi, yaitu kebijakan pemerintah menambahkan dana dalam bentuk uang kepada produsen yang berhasil mencapai target tertentu. Dampak yang diharapkan adalah :

- 1) Produksi dalam negeri lebih murah
- 2) Jumlah produksi lebih banyak
- 3) Kelangsungan produsen terjaga

h. Diskriminasi harga, yaitu kebijakan pemerintah dengan menetapkan harga yang berbeda dari barang yang sama di berbagai negara tujuan ekspor. Alasan kebijakan ini adalah :

- 1) Kemampuan negara tujuan
- 2) Selera negara tujuan
- 3) Alasan politis tertentu

#### 4. Devisa

Devisa adalah valuta asing yang telah memiliki catatan kurs resmi di bank sentral atau Bank Indonesia

Fungsi devisa adalah :

- Untuk menjaga stabilitas ekonomi
- Mempermudah dalam transaksi internasional
- Menjaga stabilitas neraca pembayaran

Sumber devisa yaitu :

- Kegiatan ekspor barang/jasa
- Pungutan bea masuk
- Bantuan luar negeri
- Penerimaan piutang
- Pendapatan bunga tabungan dalam bentuk valas

Penggunaan devisa yaitu :

- Untuk membeli (impor) barang dan jasa
- Untuk membayar utang ke negara lain
- Untuk membayar gaji tenaga kerja asing

#### 5. Alat Pembayaran Internasional

Jenis alat atau cara pembayaran internasional yang biasa digunakan dalam perdagangan internasional adalah sebagai berikut :

- Pembayaran tunai (*full bodied money*), yaitu pembayaran yang dilakukan secara tunai dengan mata uang tertentu sesuai dengan kesepakatan.
- Transfer telegrafik*, yaitu sistem pembayaran yang dilakukan oleh bank suatu negara kepada bank di luar negeri untuk membayarkan sejumlah dana deposito atas order yang telah disetujui.
- Wesel (*bill of exchange*), yaitu sistem pembayaran melalui surat perintah pembayaran dari bank dalam negeri ke bank luar negeri kepada pihak eksportir.
- Letter of credit (L/C)*, yaitu fasilitas atau jasa perbankan untuk mempermudah pembayaran transaksi internasional. Bank pemberi L/C memberikan jaminan untuk membayar sejumlah uang kepada tertentu atas permintaan nasabahnya. jenis-jenis L/C adalah :
  - L/C biasa, yaitu pembayaran melalui bank yang telah ditunjuk sesuai dengan kesepakatan.
  - Merchant L/C, yaitu pembayaran melalui bank yang telah ditunjuk setelah barang diterima importir.
  - Red clause L/C, yaitu eksportir sudah dapat menerima pembayaran sebagian dari L/C, sebelum pengapalan barang yang diekspor.
  - Industrial L/C, yaitu pembayaran L/C untuk perdagangan barang industri yang biasanya dilakukan secara cepat.
- Private compensation*, pembayaran yang dilakukan importir dengan cara tagihan pada pihak ketiga dijadikan pembayarannya. Pihak ketiga dan ekportir biasanya satu negara.

#### 6. Valuta Asing

Penyebab perubahan nilai valuta asing yaitu :

- Kebijakan pemerintah, berupa devaluasi atau revaluasi
- Mekanisme pasar, berupa depresiasi atau apresiasi
- Sistem kurs yang dipakai
- Jumlah uang yang beredar

Sistem kurs

- Kurs tetap, dimana mata uang terbuat dari emas atau ditetapkan berdasar berat emas dan emas tersebut diperjualbelikan untuk menyeimbangkan neraca pembayarannya
- Kurs bebas, yaitu sistem kurs yang menyerahkan nilai kurs valas terhadap valas berdasar mekanisme pasar
- Kurs bebas terkendali, dimana kurs valas dengan mekanisme pasar namun pada kondisi tertentu dimungkinkan pemerintah melakukan intervensi.

Istilah-istilah yang berkaitan dengan fluktuasi mata uang dalam negeri terhadap valuta asing adalah sebagai berikut :

- Depresiasi*, yaitu turunnya nilai mata uang dalam negeri terhadap nilai valuta asing yang disebabkan mekanisme pasar.
- Apresiasi*, yaitu naiknya nilai mata uang dalam negeri terhadap nilai valuta asing yang disebabkan mekanisme pasar.
- Devaluasi*, yaitu turunnya nilai mata uang dalam negeri terhadap nilai valuta asing yang disebabkan oleh kebijakan pemerintah.
- Revaluasi*, yaitu naiknya nilai mata uang dalam negeri terhadap nilai valuta asing yang disebabkan oleh kebijakan pemerintah.

Dalam perhitungan kurs valas terdapat dua jenis kurs yaitu :

- Kurs beli, adalah kurs yang digunakan pada saat bank dan money changer membeli valas
- Kurs jual, adalah kurs yang digunakan pada saat bank dan money changer menjual valas

Contoh perhitungan valas sebagai berikut :

Tn Azhar memiliki uang sebesar Rp 19.000.000,- ingin ditukar dengan dolar Amerika. Sedangkan Ny Yani memiliki US \$ 200,- ingin ditukar dengan rupiah. Kurs per US \$ 1,- yang berlaku yaitu kurs beli Rp 9.200,- dan kurs jual Rp 9.500,-

- Dengan uang Rp 10.000.000, Tn Azhar akan mendapatkan US \$ dengan perhitungan :

$$\frac{\text{Rp}19.000.000}{9.500} = \text{US } \$ 2.000,-$$

- Dengan uang US \$ 200,- Ny Yani akan mendapatkan rupiah dengan perhitungan :  
Kurs beli US \$ 1,- = Rp 9.200 (bank membeli valas)  
US \$ 200 x 9.200 = Rp 1.840.000,-

## B. Neraca Pembayaran

### 1. Pengertian, Manfaat dan Komponen Neraca Pembayaran

Neraca pembayaran catatan sistematis tentang transaksi-transaksi internasional antara penduduk suatu negara dengan penduduk negara lain pada jangka waktu tertentu yang dinyatakan dengan nilai uang.

Manfaat penyusunan neraca pembayaran adalah sebagai berikut :

- Memberikan informasi tentang hubungan internasional dengan suatu negara dalam bidang ekonomi
- Sebagai bahan pertimbangan bagi pemerintah dalam menentukan kebijakan ekonomi
- Mendapat gambaran tentang pengaruh transaksi ekonomi dengan luar negeri terhadap pendapatan nasional
- Membantu pemerintah dalam mengambil kebijakan dalam rangka memperkuat posisi dalam perdagangan internasional

Pencatatan pada neraca pembayaran menganut aturan sebagai berikut :

- Dicatat di Debet (-), jika transaksi menyebabkan negara bersangkutan melakukan pembayaran ke luar negeri.
- Dicatat di Kredit (+), jika transaksi menyebabkan negara bersangkutan menerima pembayaran dari luar negeri.

Neraca pembayaran terbagi kedalam lima komponen neraca yang berhubungan satu sama lain. Komponen neraca bagian adalah sebagai berikut :

- Neraca perdagangan*, yaitu suatu daftar yang mencatat semua transaksi ekspor impor barang.
- Neraca jasa*, yaitu suatu daftar yang mencatat transaksi penyelenggaraan jasa dari atau ke luar negeri. Contoh transaksi jasa asuransi, pengapalan/penerbangan, jasa perbankan, pariwisata.
- Neraca hasil-hasil modal*, yaitu suatu daftar yang mencatat penerimaan/pembayaran bunga, deviden, upah dan hadiah-hadiah (grants).
- Neraca modal (Capital Account)*, yaitu suatu daftar yang mencatat transaksi pembayaran/penerimaan utang piutang antar negara.
- Neraca moneter (Monetary Account)*, yaitu suatu daftar yang mencatat transaksi yang mengakibatkan perubahan pada cadangan devisa negara.

Kelompok neraca perdagangan, jasa dan hasil-hasil modal sering disebut neraca transaksi berjalan (*Current Account*)

Jenis neraca perdagangan dilihat dari perbandingan ekspor dan impor dibedakan sebagai berikut :

- Neraca perdagangan dikatakan defisit (pasif) jika besarnya ekspor lebih kecil dibandingkan impor
- Neraca perdagangan dikatakan surplus (aktif) jika besarnya ekspor lebih besar dibandingkan impor
- Neraca perdagangan dikatakan seimbang jika besarnya ekspor sama dengan impor

### 2. Utang Luar Negeri

Alasan negara-negara berkembang mengadakan utang dari luar negeri adalah :

- Banyak negara berkembang yang memiliki defisit perdagangan
- Dibutuhkan untuk meningkatkan standar kehidupan negara berkembang
- Dibutuhkan untuk mendorong pembangunan ekonomi
- Dibutuhkan pada saat terjadi bencana alam

Pembiayaan yang bersumber dari utang luar negeri seharusnya digunakan untuk kepentingan pembangunan yang dapat meningkatkan kemakmuran masyarakat. Jika seperti itu maka berapa pun besarnya utang luar negeri niscaya utang luar negeri berangsur angsur hilang dengan sendirinya.

## C. Kerjasama Ekonomi Internasional

### 1. Pengertian Globalisasi

Globalisasi merupakan suatu proses masuknya suatu tatanan nilai yang diterima secara menyeluruh karena membawa pembaharuan dan menguntungkan. Globalisasi ekonomi ditandai dengan semakin transparannya kegiatan ekonomi antar negara yang seolah tanpa batasan. Interaksi antar negara dirasakan semakin penting untuk mencapai kepentingan nasional masing-masing. Globalisasi ekonomi identik dengan pelaksanaan perdagangan bebas yang sekarang mulai dirasakan geliatnya.

Dampak positif adanya globalisasi ekonomi adalah :

- Mempercepat alih teknologi
- Penggunaan sumber daya dipacu untuk lebih efektif dan efisien
- Barang dan jasa yang dihasilkan dituntut untuk berkualitas tinggi
- Semakin luasnya pangsa pasar

Dampak negatif globalisasi ekonomi adalah :

- Industri yang baru tumbuh beresiko untuk kalah bersaing
- Negara yang kurang efisien akan terdorong dari arena perdagangan

### 2. Kemandirian Ekonomi Indonesia

Dalam menghadapi era globalisasi ekonomi yang sudah didepan mata, Indonesia dituntut untuk mampu bersaing dengan negara lain. Selain efisiensi, kunci utama dalam perdagangan bebas adalah kemandirian ekonomi. Upaya-upaya dalam mencapai kemandirian ekonomi ini adalah sebagai berikut :

- Penetapan peraturan dibidang ekonomi yang berpihak kepada pengusaha dalam negeri
- Menggali segala potensi sumber daya alam dan tenaga kerja untuk kebermanfaatn perekonomian negara
- Membatasi pembiayaan pembangunan yang bersumber dari pihak asing
- Membuat prioritas kebijakan yang mendorong munculnya produk-produk unggulan
- Merangsang berkembang industri kecil dan menengah untuk go internasional dengan sejumlah fasilitas dan kemudahan tertentu
- Penataan infrastruktur yang mendukung kegiatan perekonomian
- Meningkatkan kerjasama ekonomi dengan berbagai pihak dengan prinsip saling menguntungkan

### 3. Bentuk Kerjasama Ekonomi Internasional

Secara garis besar bentuk kerjasama ekonomi internasional dikelompokkan sebagai berikut :

- a. Kerjasama Bilateral, yaitu bentuk kerjasama yang dilakukan antar dua negara
- b. Kerjasama Regional, yaitu bentuk kerjasama yang dilakukan antar negara-negara dalam satu kawasan, seperti ASEAN (negara-negara Asia Tenggara), MEE (negara-negara Eropa) dan NAFTA (negara-negara Amerika Utara)
- c. Kerjasama Multilateral, yaitu bentuk kerjasama antar dua negara atau lebih yang tidak terikat oleh kawasan, seperti ASEAN, MEE, NAFTA dan OPEC
- d. Kerjasama Ekonomi Internasional, yaitu kerjasama ekonomi yang dilakukan antar negara-negara di dunia yang tidak dibatasi wilayah. Contoh bentuk kerjasama ini yang diwadahi PBB adalah WTO, ILO, ITO dan IMF.

Contoh penjelasan bentuk kerjasama ekonomi internasional sebagai berikut :

Kerjasama ekonomi internasional berdasarkan kewilayahan :

- a. *Asean Free Trade Area* (AFTA), yaitu organisasi yang menghendaki adanya perdagangan bebas negara-negara Asean
- b. *Asia Pacific Economy Cooperation* (APEC), yaitu organisasi yang menghendaki perdagangan bebas di Asia Pacific mulai berlaku 2010 untuk negara maju dan 2020 untuk negara berkembang
- c. *North America Free Trade Agreement* (NAFTA), yaitu organisasi yang menghendaki perdagangan bebas di kawasan Amerika Utara.
- d. *Association of South East Asian Nation* (ASEAN), yaitu organisasi kerjasama antar negara Asia tenggara, dalam bidang ekonomi bertujuan untuk mempercepat pertumbuhan ekonomi negara-negara Asia Tenggara.

Badan/lembaga ekonomi internasional non kewilayahan:

- a. Bank Dunia (*World Bank*), yaitu bank yang memberikan bantuan pada negara-negara berkembang untuk kegiatan pembangunan
- b. *General Agreement on Traffs and Trade* (GATT), yaitu organisasi yang mengurus terlaksananya organisasi perdagangan bebas dunia (Era Globalisasi Ekonomi) yang sekarang sudah diganti menjadi WTO
- c. *World Trade Organization* (WTO), yaitu organisasi perdagangan dunia sebagai tindak lanjut program GATT yang bertujuan untuk melaksanakan perdagangan bebas dan mengatasi perselisihan antar negara dalam perdagangan.
- d. *Islamic Depeloment Bank* (IDB), yaitu Bank yang beranggotan negara-negara yang mayoritas penduduknya beragama Islam yang bertujuan untuk membantu perekonomian negara anggotanya.
- e. *Consultative Group on Indonesia* (CGI), yaitu pengganti IGGI yang beranggotakan beberapa negara pemberi bantuan pinjaman yang bersyarat lunak.

**LATIHAN**

1. Yang bukan merupakan keunggulan negara berkembang melakukan perdagangan Internasional dengan negara maju adalah...
  - a. Memepercepat laju pembangunan
  - b. Pengalihan teknologi
  - c. Perluasan kesempatan kerja
  - d. Meningkatkan kualiatas konsumsi
  - e. Negara maju mengurangi utang negara berkembang
2. Dua negara melakukan perdagangan karena...
  - a. Negara yang satu ingin mengekspor, negara yang satu labi ingin mengimpor.
  - b. Kedua negara yang melakukan perdagangan memproduksi barang yang sama dengan ongkos yang sama
  - c. Terdapat keunggulan mutlak atau keunggulan komparatif
  - d. Kedua negara ingin memajukan industri dalam negeri
  - e. Ingin bersahabat dengan negara lainnya.
3. Dua negara yang menjalin hubungan dagang karena berbeda iklim jika dilakukan perdagangan internasional akan mendapat keuntungan...
  - a. Mutlak
  - b. Komparatif
  - c. Yang sama
  - d. Yang berbeda
  - e. Relatif
4. Suatu barang masih diimpor suatu negara padahal barang tersebut sudah dapat diproduksi di dalam negeri. Keuntungan yang didapat dari tindakan ini adalah keuntungan...
  - a. Mutlak
  - b. Komparatif
  - c. Sama
  - d. Kualitas
  - e. Sebanding
5. Negara X mengekspor komoditi a ke negara Y sebagai hasil pertanian karena faktor iklim yang memungkinkannya. Sebaliknya negara Y mengekspor komoditi b ke negara X sebagai hasil pertanian karena iklim negara Y mengakibatkan komoditi b tumbuh subur. Keuntungan yang didapat negar X dan negar Y dari hubungan perdagangannya adalah keuntungan...
  - a. Mutlak
  - b. Karena pertambahan jenis barang
  - c. Ongkos komparatif
  - d. Karena mutu
  - e. Yang sama
6. Di bawah ini adalah manfaat dan faktor pendorong perdagangan internasional :
  1. Saling membutuhkan
  2. Pertukaran produksi
  3. Perbedaan alam
  4. Pertukaran teknologi
 Yang menjadi pendorong perdagangan internasional adalah ...
  - a. 1 dan 2
  - b. 1 dan 3
  - c. 1, 2 dan 3
  - d. 2 dan 3
  - e. 2 dan 4
7. Negara A merupakan negara industri tetapi alamnya miskin barang tambang. Negara B merupakan negara agraris, namun alamnya mengandung mineral sangat melimpah, yang dapat menunjang industri. Dalam keadaan seperti itu mereka lalu mengadakan perdagangan. Hal ini disebabkan oleh ...
  - a. Negara A memiliki keunggulan mutlak, negara B mempunyai keunggulan komparatif
  - b. Negara A memiliki keunggulan relatif, negara B mempunyai keunggulan mutlak
  - c. Negara A memiliki keunggulan komparatif, negara B mempunyai keunggulan komparatif
  - d. Negara A memiliki keunggulan mutlak, negara B mempunyai keunggulan mutlak
  - e. Negara A memiliki keunggulan mutlak, negara B tidak punya keunggulan
8. Perdagangan internasional memungkinkan terjadinya seperti di bawah ini, kecuali ...
  - a. Pergerakan sumber daya melalui batas negara
  - b. Pertukaran dan penggunaan teknologi sehingga dapat mempercepat pertumbuhan ekonomi negara-negara yang terlibat didalamnya
  - c. Perjanjian internasional
  - d. Pergerakan sumber daya/faktor produksi melalui batas negara
9. Perhatikan tabel berikut :
 

Negara	Makanan	Tekstil
Indonesia	4 jam	3 jam
AS	2 jam	1 jam

Dari tabel diatas masing-masing negara Indonesia maupun Amerika Serikat memperoleh keuntungan komparatif. Indonesia memperoleh keuntungan terhadap unit makanan sebesar ... **(UAN-2002)**

  - a. 1/4
  - b. 1/3
  - c. 2/4
  - d. 2/3
  - e. 3/4

10. Berikut tabel gambaran hasil kerja satu orang per hari :

Negara	Hasil / Barang		Dasar tukar dalam negeri
	Kain	Padi	
Indonesia	20 m	10 kg	1 m = 0,5 kg padi
Cina	40 m	50 kg	1 m = 1,25 kg padi

Berdasarkan data di atas jika terjadi perdagangan internasional masing-masing negara akan mendapat keuntungan...

- Indonesia 1,2 kg padi dan Cina 0,75 m kain
- Indonesia 0,75 kg padi dan Cina 1,2 m kain
- Indonesia 0,5 kg padi dan Cina 1,25 m kain
- Indonesia 1,25 kg padi dan Cina 0,5 m kain
- Indonesia dan Cina 1,25 m kain

11. Berikut tabel gambaran hasil kerja satu orang per hari :

Negara	Hasil / Barang		Dasar tukar dalam negeri
	Radio	Padi	
India	20 unit	40 kg	1 radio = 2 kg padi
Indonesia	60 unit	48 kg	1 radio = 0,8 kg padi

Berdasarkan data di atas jika terjadi perdagangan internasional berdasarkan nilai tukar luar negeri dan dalam negeri masing-masing negara akan mendapat keuntungan...

- Indonesia 1,2 kg padi dan India 1,5 unit radio
- Indonesia 2,5 kg padi dan India 2,5 unit radio
- Indonesia 1,2 kg padi dan India 0,75 unit radio
- Indonesia 2,2 kg padi dan India 0,5 unit radio
- Indonesia dan India 1,2 unit radio

12. Tabel waktu yang dibutuhkan 1 pekerja dalam pembuatan radio dan kain sebagai berikut :

Negara	Radio	Kain	Dasar Tukar
Indonesia	4 jam/buah	6 menit/m	1 Radio = 40 m Kain
Jepang	3 jam/buah	12 menit/m	1 Radio = 15 m Kain

Berdasarkan tabel di atas, maka ...

- Indonesia memperoleh keunggulan komparatif dari kain
  - Indonesia memperoleh keuntungan mutlak dari kain
  - Jepang memperoleh keuntungan komparatif dari radio
  - Jepang memperoleh keuntungan mutlak dari kain
  - Indonesia dan Jepang memperoleh keuntungan yang sama
13. Untuk mengatasi keburukan akibat perdagangan Internasional, pemerintah memberlakukan kuota. Kuota adalah...
- Melarang komoditi pertanian ekspor
  - Melarang masuknya barang-barang konsumsi kecuali barang produksi
  - Membatasi jumlah impor
  - Menaikkan harga barang impor dalam negeri
  - Menetapkan harga barang di dalam negeri lebih mahal dibandingkan dengan di luar negeri
14. Kebijakan tarif dan bea masuk untuk barang impor dimaksudkan...
- Supaya barang-barang ekspor menjadi mahal
  - Agar barang impor menjadi mahal sehingga barang dalam negeri memiliki daya saing
  - Agar barang produksi dalam negeri menjadi lebih mahal
  - Menghilangkan sama sekali barang impor
  - Agar harga-harga barang dalam negeri menjadi mahal dibandingkan dengan barang sejenis dari luar negeri
15. Yang tidak termasuk langkah-langkah yang diambil oleh pemerintah untuk melindungi industri dalam negeri adalah...
- Memberi subsidi
  - Mengenakan tarif tinggi untuk barang ekspor
  - Pembebasan pembayaran pajak
  - Pembebasan pajak untuk impor
  - Kuota impor
16. Negara yang terkenal karena melakukan politik dumping dalam perdagangan internasionalnya adalah...
- Amerika Serikat
  - Jepang
  - Jerman
  - Perancis
  - Inggris
17. Yang tidak diharapkan pemerintah dengan kebijakan tarif dan bea masuk adalah...
- Merangsang industri dalam negeri untuk lebih maju
  - Barang produksi dalam negeri memiliki daya saing
  - Menurunkan harga barang
  - Menghemat penggunaan devisa
  - Melindungi industri dalam negeri
18. Langkah yang tepat yang bertujuan untuk mengisi kas negara dan melindungi industri dalam negeri adalah...
- Penetapan tarif
  - Kuota
  - Dumping
  - Larangan impor
  - Mengenakan pajak yang tinggi untuk impor bahan mentah
19. Bantuan yang diberikan oleh pemerintah kepada para produsen dalam negeri agar mereka dapat menjual barangnya dengan harga yang lebih murah sehingga dapat bersaing dengan barang-barang hasil produksi negara lain merupakan kebijaksanaan ...
- Pelarangan impor
  - Dumping
  - Subsidi
  - Kuota
  - Proteksi

20. Negara Cina menjual produk celana ke Indonesia seharga Rp 20.000,-. Padahal biaya produksinya adalah Rp 25.000,-. Kebijakan Cina ini disebut ...
- Kuota
  - Subsidi
  - Diskriminasi harga
  - Dumping
  - Tarif bea masuk
21. Kebijakan pemerintah untuk menurunkan nilai uang dalam negeri terhadap mata uang asing disebut ...
- Depresiasi
  - Sanering
  - Devaluasi
  - Apresiasi
  - Revaluasi
22. Sektor komoditi negara berkembang harus lebih banyak memberikan sumbangan kepada pembangunan ekonomi melalui pemasaran ke luar negeri. Untuk mewujudkan tujuan tersebut diperlukan langkah-langkah sebagai berikut, kecuali ...
- Mengadakan revaluasi
  - Mengadakan devaluasi
  - Memberikan premi ekspor
  - Deregulasi ekspor
  - Subsidi kepada eksportir
23. Pihak yang paling membutuhkan valuta asing adalah ...
- Eksportir
  - Importir
  - Produsen
  - Konsumen
  - Distributor
24. Seorang importir membeli barang dari luar negeri dengan membayar sebagian harga barang sebelum barang tersebut dikapalkan. Cara pembayaran ini disebut ...
- L/C biasa
  - Merchant's L/C
  - Usance L/C
  - Red clause L/C
  - Industrial L/C
25. Pada tanggal 14 Agustus 1997 cadangan devisa Indonesia terbatas karena krisis ekonomi sehingga pemerintah mengambil keputusan untuk menetapkan sistem kurs berdasarkan kekuatan pasar tanpa campur tangan pemerintah. Sistem kurs ini disebut ...
- Goldexchange rate
  - Fixed exchange rate
  - Fluctuating exchange rate
  - Stable exchange rate
  - Multiple exchange rate
26. Kebijakan proteksi bertujuan untuk ...
- Melarang masuknya barang-barang dari luar negeri
  - Melindungi produksi dalam negeri terhadap barang-barang impor
  - Melindungi pengusaha swasta nasional dari kebangkrutan
  - Meningkatkan penghasilan pengusaha nasional
  - Melindungi pengusaha nasional agar cepat berkembang
27. Jumlah maksimum barang produksi luar negeri yang diijinkan masuk (diimpor) selama satu periode tertentu disebut ...
- Subsidi
  - Tarif
  - Dorongan impor
  - Kuota impor
  - Subsidi impor
28. Kebijakan devaluasi bertujuan ...
- Meningkatkan impor
  - Menurunkan ekspor
  - Membuat neraca pembayaran surplus
  - Meningkatkan daya saing di pasar internasional
  - Menghindari terjadinya dumping
29. Kebijakan perdagangan yang dilakukan pemerintah dengan tujuan menurunkan biaya produksi dalam negeri agar mampu bersaing dengan produk luar negeri disebut ...
- Subsidi
  - Dumping
  - Kuota
  - Tarif dan bea masuk
  - Pelarangan impor
30. Politik dumping adalah ...
- Mengadakan tindakan perlindungan terhadap barang-barang yang sama yang dihasilkan di dalam negeri
  - Mengadakan pasar bersama, misalnya pasar ASEAN
  - Membebaskan biaya ekspor yang tinggi
  - Menjual barang dengan harga lebih murah di luar negeri dibandingkan dengan di dalam negeri
  - Menjual barang dengan menguasai pasar di daerah tertentu



31. Pajak atau bea yang dikenakan untuk barang yang melalui suatu negara dengan ketentuan bahwa tujuan akhir barang tersebut adalah negara lain disebut bea ...
- Ekspor
  - Transito
  - Pabean
  - Impor
  - Tarif
32. Faktor-faktor berikut ini yang dapat menghambat atau menghalangi perkembangan atau target ekspor adalah ...
- Pajak ekspor yang tinggi
  - Tarif impor di luar negeri
  - Penentuan kuota impor negara mitra dagang
  - Embargo
33. Jika Inggris mendepresiasi poundsterling terhadap dollar Amerika maka ilmu ekonomi memprediksi bahwa ekspor neto Inggris akan ...
- Memburuk
  - Tetap
  - Meningkat
  - Menurun
  - Defisit
34. Depresiasi rupiah terhadap dolar Amerika sangat menguntungkan pengusaha yang menggunakan bahan baku dari luar negeri,  
SEBAB  
Dilihat dari dalam negeri, harga barang luar negeri menjadi murah.
35. Di suatu bank devisa tertulis bahwa kurs valuta doalr AS terhadap rupiah adalah sebagai berikut :  
US\$ 1 Beli Rp 8.800,00 Jual Rp 8.950,00  
Tn. Azhar ingin mendapatkan rupiah dengan menukar dolar sejumlah US\$ 150. berapa rupiahkah yang diterima Tn. Azhar ?
- Rp 1.220.000,00
  - Rp 1.320.000,00
  - Rp 1.420.000,00
  - Rp 1.520.000,00
  - Rp 1.620.000,00
36. Seorang wisatawan asing menukarkan valuta asingnya sebanyak US \$ 5000 di Bank BNI. Kurs beli Rp 7.200,-/US \$ dan kurs jual Rp 7.850,- /US \$. Ia membelanjakan uangnya Rp 15.000.000,- maka sisa uangnya adalah ...
- Rp 39.250.000,-
  - Rp 36.000.000,-
  - Rp 24.250.000,-
  - Rp 21.000.000,-
  - Rp 15.000.000,-

37. Diketahui :

Mata Uang	Kurs Beli	Kurs Jual
US \$ 1	8.500	9.200

Berdasarkan kurs valas di atas bila Mr. Gonzales datang ke Indonesia dengan membawa uang US \$ 800. Maka uang rupiah yang diterima oleh Mr. Gonzales adalah ...

- Rp 6.800.000,-
  - Rp 7.000.000,-
  - Rp 7.800.000,-
  - Rp 8.000.000,-
  - Rp 8.800.000,-
38. Sebelum berangkat ke Amerika, Budi menukarkan uangnya sebesar Rp 60.000.000,- dengan dolar Amerika. Kurs saat itu : kurs beli 1 US \$ = Rp 7.000,-; kurs jual 1 US \$ = Rp 7.500,-. Di Amerika, budi membelanjakan uangnya sebesar 6000 US\$. Sekembalinya di Indonesia, Budi menukar kembali sisa dolarnya ke rupiah, saat itu kurs beli 1 US \$ = Rp 7.300,-; kurs jual 1 US \$ = Rp 7.800,-; maka sisa uang Budi sebesar ...
- Rp 14.600.000,-
  - Rp 15.000.000,-
  - Rp 15.600.000,-
  - Rp 18.771.428,57
  - Rp 20.057.142,86

39. Kurs valuta asing di Bank Mandiri sebagai berikut :

Valas	Beli	Jual	Tengah
US\$	8.600	8.650	8.625
Singapur \$	4.500	4.600	4.550
Poundsterling £	5.700	5.950	5.825

Jika Ega menukarkan uangnya sebanyak US\$ 500, £ 200 dengan uang rupiah, maka yang diterima Ega adalah ...

- Rp 5.477.500
- Rp 5.440.000
- Rp 5.415.000
- Rp 4.325.000
- Rp 4.312.000

40. Kurs valuta asing di BNI sebagai berikut :

Valas	Beli	Jual	Tengah
US\$	9.000	9.050	9025
Singapur \$	5.000	5.100	5050
Poundsterling £	12.200	12.250	12.225

Jika Dian menukarkan uangnya sebanyak US\$ 1.000, £ 500 dan \$ 200 dengan uang rupiah, maka yang diterima Dian adalah ...

- Rp 2.400.000
- Rp 13.940.000
- Rp 19.340.000
- Rp 13.490.000
- Rp 14.390.000

41. Suatu ikhtisar/catatan yang tersusun secara matematis tentang transaksi ekonomi internasional antara penduduk suatu negara dengan penduduk negara lain dalam jangka waktu tertentu disebut ...
- Neraca perdagangan
  - Neraca pembayaran
  - Neraca jasa
  - Neraca modal
  - Neraca moneter
42. Fungsi neraca pembayaran adalah...
- Sebagai bahan keterangan untuk mengambil keputusan dalam penerapan pajak ekspor dan impor
  - Sebagai bahan keterangan untuk menetapkan baik buruknya hubungan ekonomi dengan suatu negara
  - Sebagai bahan keterangan bagi pemerintah untuk mengambil kebijakan dalam politik perdagangan internasional
  - Sebagai bahan keterangan bagi pihak swasta untuk memanfaatkan peluang pasar di luar negeri
  - Sebagai bahan keterangan bagi pemerintah untuk menetapkan angka pertumbuhan ekonomi
43. Neraca transaksi berjalan adalah neraca yang mencatat semua transaksi suatu negara dengan pihak luar negeri. Transaksi yang dicatat adalah transaksi ...
- Perdagangan barang dan jasa
  - Perdagangan barang dan jasa dan transaksi pemerintah dengan pihak luar negeri
  - Arus modal
  - Arus modal dan transaksi pemerintah dengan pihak luar negeri
  - Perdagangan barang, jasa dan transaksi arus modal
44. Berikut ini sebagian komponen neraca pembayaran :
- mengeksport kayu, paku, minyak dan gas bumi
  - kredit untuk pelaksanaan perdagangan dari negara lain
  - menggunakan/digunakan jasa bidang transportasi, asuransi dan pariwisata
  - pembelian saham, obligasi, dan surat berharga lainnya oleh penduduk luar negeri
  - impor suku cadang kendaraan, barang-barang elektronik dan barang-barang lainnya
- Dari pernyataan di atas yang termasuk komponen neraca modal adalah ...
- 1 dan 2
  - 1 dan 5
  - 2 dan 3
  - 2 dan 4
  - 3 dan 5
45. Pada neraca pembayaran terdapat catatan yang memuat perubahan yang terjadi pada cadangan devisa suatu negara baik berupa emas atau valuta asing, komponen ini berasal dari neraca ...
- perdagangan
  - jasa
  - modal
  - emas
  - moneter
46. Unsur-unsur neraca pembayaran internasional :
- ekspor-impor
  - pemberian dan penerimaan
  - pemberian dan penerimaan jasa
  - pembayaran utang piutang
  - emas sebagai alat bayar
- Yang termasuk rekening modal (*capital account*) adalah ...
- 1 dan 2
  - 1 dan 3
  - 2 dan 3
  - 2 dan 4
  - 4 dan 5
47. Beberapa transaksi dalam perdagangan internasional :
- menabung di luar negeri
  - pembayaran bunga utang luar negeri
  - penerimaan hadiah dari negara lain
  - impor barang
  - investasi penduduk negara lain
  - ekspor barang
- Yang termasuk pos kredit neraca pembayaran adalah ...
- 1, 2 dan 4
  - 1, 3 dan 5
  - 2, 3 dan 5
  - 2, 4 dan 6
  - 3, 5 dan 6
48. Perhatikan isi neraca pembayaran berikut :
- Pinjaman jangka panjang penduduk negara lain di Indonesia
  - Cadangan devisa
  - Kredit perdagangan dari negara lain
  - Kewajiban Indonesia ke IMF
- Yang dikategorikan sebagai neraca modal adalah nomor...
- 1 dan 2
  - 1 dan 3
  - 3 dan 4
  - 1 dan 4
  - 2 dan 4

49. Yang tidak termasuk transaksi *current account* adalah...
- Penerimaan bunga
  - Jasa pariwisata
  - Penerimaan deviden dari luar negeri
  - Penanaman modal asing
  - Ekspor impor
50. Perhatikan bagian neraca pembayaran berikut :
- Pembelian saham WNA di Indonesia
  - Ekspor impor barang dagang
  - Transaksi jasa-jasa
  - Penanaman modal WNI di luar negeri
  - Investasi langsung WNA di Indonesia
  - Hasil pariwisata
- Yang dikategorikan transaksi berjalan adalah ...
- 1, 2 dan 3
  - 2, 3 dan 4
  - 4, 5 dan 6
  - 1, 3 dan 5
  - 2, 3 dan 6
51. Berikut ini sebagian komponen neraca pembayaran :
- Mengekspor kayu, permen, minyak dan gas bumi
  - Kredit untuk pelaksanaan perdagangan dari negara lain
  - Menggunakan/digunakan jasa bidang transportasi, asuransi dan pariwisata
  - Pembelian saham, obligasi dan surat berharga lainnya oleh penduduk luar negeri
  - Impor suku cadang kendaraan, barang-barang elektronik dan barang-barang lainnya
- Dari pernyataan di atas yang termasuk komponen neraca modal adalah ...
- 1 dan 2
  - 1 dan 5
  - 2 dan 3
  - 2 dan 4
  - 3 dan 5
52. Pemerintah Indonesia mendapat bantuan kredit dari CGI sebesar US\$ 3 juta. Transaksi ini akan dicatat dalam neraca pembayaran Indonesia pada neraca ...
- Lalu lintas modal sisi debit
  - Lalu lintas modal sisi kredit
  - Hasil-hasil modal sisi kredit
  - Lalu lintas moneter sisi debit
  - Lalu lintas moneter sisi kredit
53. Jika komponen neraca pembayaran sebelah debit lebih besar dari komponen sebelah kredit, neraca pembayaran tersebut...
- Aktif
  - Pasif
  - Minus
  - Surplus
  - Rugi
54. Pemberian pinjaman oleh penduduk Indonesia untuk penduduk negara lain dicatat di neraca...
- Perdagangan
  - Modal
  - Jasa
  - Moneter
  - Impor
55. Neraca perdagangan disebut pasif apabila ...
- ekspor < impor
  - ekspor > impor
  - ekspor = impor
  - ekspor meningkat
  - ekspor menurun
56. Contoh transaksi dalam neraca pembayaran yang dicatat di kredit adalah ...
- Membayar jasa tenaga kerja
  - Membayar bunga utang
  - Memberi pinjaman
  - Mengekspor barang
  - Mengimpor barang
57. Apabila Jepang mengimpor utang dari Indonesia, maka dicatat pada neraca ...
- Perdagangan Indonesia akan mencatat di sebelah debit dan Jepang di sebelah kredit
  - Perdagangan Indonesia akan mencatat di sebelah kredit dan Jepang di sebelah debit
  - Pembayaran Indonesia akan mencatat di sebelah debit dan Jepang di sebelah kredit
  - Perdagangan Indonesia akan mencatat di sebelah kredit dan Jepang di sebelah debit
  - Lalu lintas modal Indonesia akan mencatat di sebelah debit dan Jepang di sebelah kredit

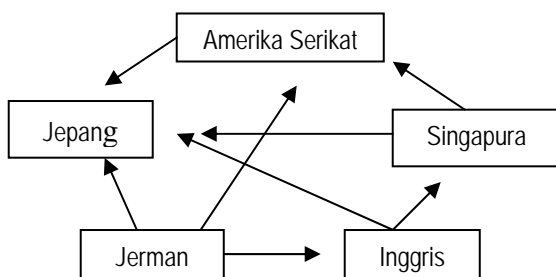
58. Neraca perdagangan "Y" tahun 1991/ 1992 (dalam \$ juta)

Ekspor migas	34.645	Impor migas	17.815
Ekspor LNG	10.287	Impor nonmigas	42.683
Ekspor nonmigas	18.093	Saldo	2.527
	63.025		63.025

Berdasarkan data diatas neraca perdagangan negara "Y" adalah ...

- Pasif
  - Aktif
  - Surplus
  - Defisit
  - Seimbang
59. Pengaruh neraca perdagangan terhadap kurs valas adalah ...
- neraca perdagangan berimbang, kurs valas naik
  - neraca perdagangan pasif, kurs valas naik
  - neraca perdagangan naik, kurs tetap
  - neraca perdagangan aktif, kurs valas naik
  - neraca perdagangan positif, kurs valas naik
60. Neraca pembayaran yang dimiliki suatu negara dapat terjadi surplus atau defisit, adapun dampak dari neraca pembayaran surplus adalah ...
- Memiliki dana lebih di luar negeri
  - Banyaknya dana ekspor barang ke luar negeri
  - Banyaknya dana yang mengalir ke luar negeri
  - Memiliki dana lebih atas ekspor barang
  - Memiliki dana lebih atas pemberian jasa
61. Ekspor dan impor sangat berpengaruh terhadap perekonomian di dalam negeri. Apabila terjadi defisit neraca perdagangan secara terus menerus akan mendorong terjadinya ...
- Deflasi
  - Resesi
  - revaluasi
  - Inflasi
  - Devaluasi
62. Kebijakan untuk mengurangi defisit neraca transaksi berjalan adalah ...
- Menaikkan suku bunga riil
  - Menjaga tingkat inflasi tetap rendah
  - Menambah uang beredar
  - Mendorong ekspor
63. Devisa kredit adalah devisa yang berasal dari ...
- Hasil ekspor barang
  - Hasil ekspor jasa
  - Bantuan luar negeri
  - Luar negeri
  - Penjualan emas
64. Globalisasi ekonomi mempunyai dampak positif terhadap suatu negara apabila negara tersebut mempunyai ...
- Sumber daya manusia yang handal
  - Sumber alam yang tidak terbatas
  - Teknologi canggih
  - Modal yang besar
  - Keunggulan komparatif dan keunggulan bersaing
65. Peran badan kejasama ekonomi antar negara dalam pertumbuhan ekonomi untuk ...
- Sumber utama dana pembangunan
  - Meningkatkan neraca perdagangan luar negeri
  - Menciptakan kestabilan ekonomi dan memajukan perekonomian
  - Mendirikan pusat promosi perdagangan investasi dan pariwisata
  - Meningkatkan kerjasama dan saling membantu kepentingan bersama
66. Dalam mempertahankan kemandirian ekonomi Indonesia dalam menghadapi globalisasi, hal-hal yang harus dilakukan adalah tersebut di bawah ini, kecuali ...
- Meningkatkan teknologi informasi
  - Meningkatkan teknologi perusahaan
  - Meningkatkan hubungan kerja sama antar bangsa
  - Meningkatkan jumlah ekspor
  - Meningkatkan jumlah impor

67. Perhatikan bagan berikut :



Bagan di atas merupakan bentuk kerjasama ekonomi ...

- a. Bilateral
  - b. Regional
  - c. Antar regional
  - d. Multilateral
  - e. Internasional
68. Tujuan Bank Pembangunan Asia adalah ...
- a. Membantu neraca pembayaran negara anggota yang defisit
  - b. Memberi bantuan teknik dan pinjaman pada negara anggota
  - c. Memberi bantuan pada negara anggota untuk membuka jalan bagi daerah yang terisolasi
  - d. Memberi bantuan pada negara anggota untuk memperbaiki perkampungan kumuh
  - e. Sebagai pusat pemberi informasi untuk perbankan dan moneter
69. Tujuan IMF adalah ...
- a. Membantu negara anggota untuk mengatasi utang luar negeri
  - b. Mengusahakan tercapainya kesejahteraan di dunia
  - c. Membantu negara anggota untuk mengatasi masalah pangan
  - d. Membantu riset tentang lingkungan hidup
  - e. Membantu negara anggota untuk menghitung pendapatan nasional
70. Tujuan AFTA adalah ...
- a. Meningkatkan perdagangan dan spesialisasi
  - b. Kerjasama dibidang pertahanan
  - c. Kerjasama dibidang kepabeanan
  - d. Kerjasama bidang pendidikan dan latihan
  - e. Penelitian sumber daya kelautan
71. ECOSOC merupakan salah satu lembaga internasional yang bernaung di bawah PBB. Lembaga ini bertujuan ...
- a. memberikan bantuan hal-hal yang berkaitan dengan pelaksanaan kerjasama keuangan internasional.
  - b. memelopori penelitian mengenai persoalan ekonomi, sosial, kesehatan, pendidikan dan kebudayaan.
  - c. Memberikan bantuan negara-negara berkembang untuk memperluas perdagangan internasional.
  - d. memberikan bantuan negara-negara berkembang untuk pembangunan jalan.
  - e. memberikan bantuan kredit pada negara yang membutuhkan.
72. Salah satu tujuan IMF adalah ...
- a. Mengatasi hambatan-hambatan dalam perdagangan
  - b. Membantu negara-negara anggota dalam permodalan
  - c. Membantu negara-negara berkembang dibidang pertanian
  - d. Membantu perkembangan ekonomi, kebudayaan dan kesehatan
  - e. Membantu negara anggota yang mengalami defisit neraca pembayaran
73. Contoh kerjasama ekonomi regional yaitu kerjasama antara ASEAN dengan ...
- a. OPEC
  - b. IGGI
  - c. Commonwealth
  - d. MEE
  - e. MITI
74. Dalam arti ekonomi, maka ASEAN mempunyai makna ...
- a. Memperkuat industri negara-negara ASEAN
  - b. Menahan dominasi pasar bagi negara-negara ASEAN
  - c. Kerjasama ekonomi negara-negara ASEAN
  - d. Tempat penanam modal asing bagi negara-negara ASEAN
  - e. Pasar bagi negara-negara maju